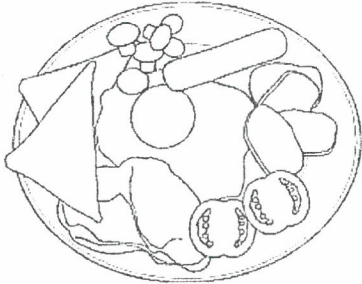



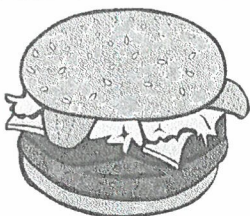
假日好去處(A)


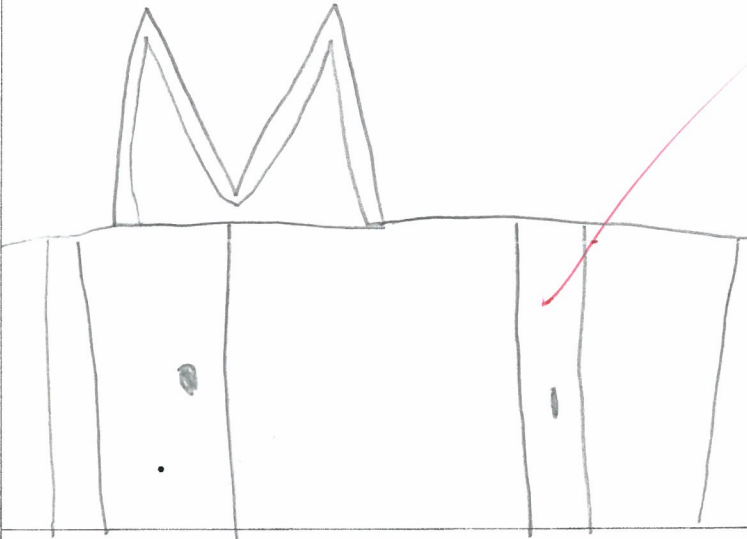


姓名：陳加讚 (/) 班別：2A 成績：

- ◆ 請為自己安排農曆新年假期內一天的行程，並完成下表。
- ◆ 日期：19 年 2 月 6 日(星期三)
- ◆ 活動建議：拜年、做運動、做功課、逛街、遊覽、參觀……

活動 (繪圖或貼上照片)	開始時間	結束時間	所需時間
例子： <u>和家人一同吃早餐</u> 	上午 <u>7時30分</u>	上午 <u>8時10分</u>	<u>0</u> 小時 <u>40</u> 分鐘
活動 (一) <u>在田心村裏看舞龍其廟米</u> 	上午 <u>11時00分</u>	下午 <u>2時00分</u>	<u>3</u> 小時 <u>0</u> 分鐘




活動 (繪圖或貼上照片)	開始時間	結束時間	所需時間
活動 (二) <u>看電影</u> 	<u>下午</u> <u>5時45分</u>	<u>下午</u> <u>7時30分</u>	<u>1</u> 小時 <u>45</u> 分鐘
活動 (三) <u>吃麥當勞</u> 	<u>下午</u> <u>8時00分</u>	<u>下午</u> <u>9時00分</u>	<u>1</u> 小時 <u>0</u> 分鐘
<h2>今天結束了!</h2>			

以上各項活動中，哪一項活動佔最多時間？共用去多少小時和分鐘？


在以上各項活動中，活動 (一) 花了最長的時間，

共用去 5³ 小時 45 分鐘。

要珍惜時間啊!



假日好去處(B)



姓名：何晉霖 (10) 班別：2A 成績：



◆ 請為自己安排農曆新年假期內一天的行程，並完成下表。

◆ 日期：2019年二月二日(星期六)

◆ 活動建議：拜年、做運動、做功課、逛街、遊覽、參觀……

活動 (繪圖或貼上照片)	開始時間	結束時間	所需時間
例子： <u>和家人一同吃早餐</u> 	上午 <u>7時30分</u>	上午 <u>8時10分</u>	0小時 40分鐘
活動(一) <u>我和祖母去永豐邨行花市</u> 	上午 <u>10時0分</u>	正午 <u>12時0分</u>	2小時 120分鐘 0



活動 (繪圖或貼上照片)	開始時間	結束時間	所需時間
活動 (二) <u>我和祖父、祖母去油麻地的天后古廟還神。</u> 	<u>上午</u> <u>10時30分</u>	<u>上午</u> <u>11時20分</u>	<u>0</u> 小時 <u>50</u> 分鐘
活動 (三) <u>我和爸爸去朋友家拜年。</u> 	<u>下午</u> <u>6時40分</u>	<u>下午</u> <u>7時30分</u>	<u>0</u> 小時 <u>70</u> 分鐘
<h2>今天結束了!</h2>			

以上各項活動中，哪一項活動佔最多時間？共用去多少小時和分鐘？


為甚麼你會這樣安排？

在以上各項活動中，活動 (一) 花了最長的時間，


共用去 2 小時 120 分鐘。我安排這活動佔最長時間因為

的花很漂亮，所以我花了很多時間，但是我看見很多燦爛的花種，我就繪畫它們。我畫了：水仙花、蘭花和四季桔。

要珍惜時間啊!



假日好去處(A)





姓名：何殷瑤 (11) 班別：2A 成績：



◆ 請為自己安排農曆新年假期內 一天的行程，並完成下表。

◆ 日期：2019 年 2 月 9 日 (星期 六)

◆ 活動建議：拜年、做運動、做功課、逛街、遊覽、參觀……

活動 (繪圖或貼上照片)	開始時間	結束時間	所需時間
例子： <u>和家人一同吃早餐</u> 	上午 <u>7時30分</u>	上午 <u>8時10分</u>	0 小時 <u>40 分鐘</u>
活動 (一) <u>和家人一同吃早餐</u> 	上午 <u>9時0分</u>	上午 <u>9時30分</u>	0 小時 <u>30 分鐘</u>



活動 (繪圖或貼上照片)	開始時間	結束時間	所需時間
活動 (二) 和家人一同看 <u>來佳技表演</u> 	下午 <u>2時30分</u>	下午 <u>5時30分</u>	<u>3</u> 小時 <u>0</u> 分鐘
活動 (三) 和家人一同吃 <u>日免食飯</u> 	下午 <u>7時30分</u>	下午 <u>9時30分</u>	<u>2</u> 小時 <u>0</u> 分鐘


— 了！

以上各項活動中，哪一項活動佔最多時間？共用去多少小時和分鐘？

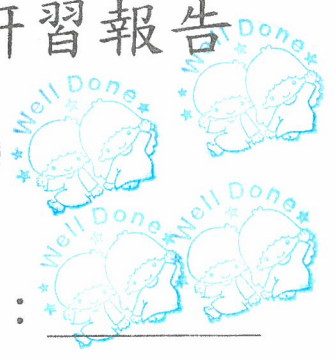
在以上各項活動中，活動 (二) 花了最長的時間，

共用去 3 小時 0 分鐘。

要珍惜時間啊！







假日好去處(A)



姓名：馮景謙 (14) 班別：2B 成績：

- ◆ 請為自己安排農曆新年假期內 **一天的行程**，並完成下表。
- ◆ 日期：2019 年 2 月 3 日 (星期 日)
- ◆ 活動建議：拜年、做運動、做功課、逛街、遊覽、參觀……

活動 (繪圖或貼上照片)	開始時間	結束時間	所需時間
例子： <u>和家人一同吃早餐</u> 	上午 <u>7時30分</u>	上午 <u>8時10分</u>	0小時 <u>40分鐘</u>
活動 (一) <u>看電影</u> ✓ 	上午 <u>10時15分</u> ✓	上午 <u>11時51分</u> ✓	1小時 <u>36分鐘</u> ✓




活動 (繪圖或貼上照片)	開始時間	結束時間	所需時間
活動 (二) <u>逛 街</u> 	下午 <u>2時0分</u>	下午 <u>5時11分</u>	<u>3</u> 小時 11 分鐘
活動 (三) <u>吃團年飯</u> 	下午 <u>6時0分</u>	下午 <u>8時45分</u>	<u>2</u> 小時 <u>45</u> 分鐘
<h2>今天結束了!</h2>			

以上各項活動中，哪一項活動佔最多時間？共用去多少小時和分鐘？

在以上各項活動中，活動 (二) 花了最長的時間，

共用去 3 小時 11 分鐘。

要珍惜時間啊!





假日好去處(B)



姓名：馮樂君 (15) 班別：2B 成績：Well Done



◆ 請為自己安排農曆新年假期內 一天的行程，並完成下表。

◆ 日期：2019年2月1日(星期五)

◆ 活動建議：拜年、做運動、做功課、逛街、遊覽、參觀……

活動 (繪圖或貼上照片)	開始時間	結束時間	所需時間
例子： <u>和家人一同吃早餐</u> 	上午 <u>7時30分</u>	上午 <u>8時10分</u>	0小時 <u>40分鐘</u>
活動(一) <u>到遊樂場玩</u> 	上午 <u>9時0分</u>	上午 <u>10時0分</u>	1小時 0分鐘



活動 (繪圖或貼上照片)	開始時間	結束時間	所需時間
活動 (二) <u>到菜市場買菜</u> 	上午 <u>10時0分</u>	上午 <u>11時0分</u>	<u>1</u> 小時 <u>0</u> 分鐘
活動 (三) <u>製作木裙子</u> 	上午 <u>11時0分</u>	上午 <u>12時30分</u>	<u>1</u> 小時 <u>30</u> 分鐘
<h2>今天結束了!</h2>			


以上各項活動中，哪一項活動佔最多時間？共用去多少小時和分鐘？

為甚麼你會這樣安排？

在以上各項活動中，活動 (三) 花了最長的時間，

共用去 1 小時 30 分鐘。我安排這活動佔最長時間因為
製作一條木裙子要用很多時間

要珍惜時間啊!





假日好去處(A)








姓名：羅佳天 (17) 班別：2B 成績：



- ◆ 請為自己安排農曆新年假期內一天的行程，並完成下表
- ◆ 日期：2019年2月10日(星期日)
- ◆ 活動建議：拜年、做運動、做功課、逛街、遊覽、參觀……

活動 (繪圖或貼上照片)	開始時間	結束時間	所需時間
例子： <u>和家人一同吃早餐</u> 	上午 <u>7時30分</u>	上午 <u>8時10分</u>	0小時 <u>40分鐘</u>
活動(一) <u>我們到大埔林村</u> 	上午 <u>3時</u> 分	上午 <u>3時30分</u>	0 半 小時 <u>30</u> 分鐘




活動 (繪圖或貼上照片)	開始時間	結束時間	所需時間
活動 (二) <u>到許願樹拋(古)桔</u> 	下午 <u>4時0分</u>	下午 <u>5時0分</u>	1 小時 <u>0</u> 分鐘
活動 (三) <u>我們到佐敦吃晚飯</u> 	下午 <u>8時30分</u>	下午 <u>9時30分</u>	一小時 <u>0</u> 分鐘
<h2>今天結束了!</h2>			

以上各項活動中，哪一項活動佔最多時間？共用去多少小時和分鐘？

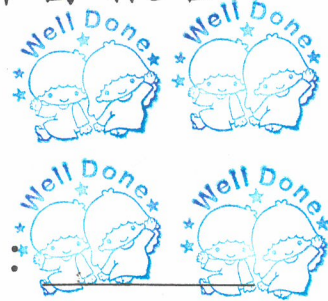
在以上各項活動中，活動 (二) 花了最長的時間，

共用去 1 小時 0 分鐘。

要珍惜時間啊!



假日好去處(B)






姓名：丁婕 (24) 班別：2B 成績：



◆ 請為自己安排農曆新年假期內 **一天的行程**，並完成下表。

◆ 日期：2019 年 2 月 3 日 (星期 日)

◆ 活動建議：拜年、做運動、做功課、逛街、遊覽、參觀……

活動 (繪圖或貼上照片)	開始時間	結束時間	所需時間
例子： <u>和家人一同吃早餐</u> 	上午 <u>7時30分</u>	上午 <u>8時10分</u>	0 小時 <u>40 分鐘</u>
活動 (一) <u>和家人一起看電視</u> 	上午 <u>11時15分</u>	下午 <u>1時0分</u>	2 小時 <u>15 分鐘</u>



活動 (繪圖或貼上照片)	開始時間	結束時間	所需時間
活動 (二) <u>到茶樓吃東西</u> 	下午 <u>1時45分</u>	下午 <u>3時45分</u>	<u>2</u> 小時 <u>0</u> 分鐘
活動 (三) <u>和媽媽一起準備紅封包</u> 	下午 <u>10時55分</u>	下午 <u>11時46分</u>	<u>0</u> 小時 <u>51</u> 分鐘
今天結束了!			

以上各項活動中，哪一項活動佔最多時間？共用去多少小時和分鐘？


為甚麼你會這樣安排？

在以上各項活動中，活動 (二) 花了最長的時間，

共用去 2 小時 15 分鐘。我安排這活動佔最長時間因為

電影播放時間播得很長

要珍惜時間啊!

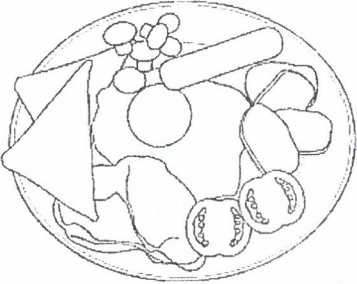




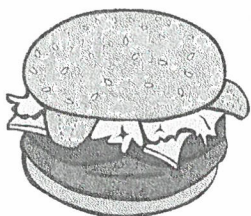




假日好去處(A)

姓名：羅永淳 (11) 班別：2C 成績：

- ◆ 請為自己安排農曆新年假期內 **一天的行程**，並完成下表。
- ◆ 日期：2019 年 2 月 2 日 (星期六)
- ◆ 活動建議：拜年、做運動、做功課、逛街、遊覽、參觀……

活動 (繪圖或貼上照片)	開始時間	結束時間	所需時間
例子： <u>和家人一同吃早餐</u> 	上午 <u>7時30分</u>	上午 <u>8時10分</u>	0 小時 40 分鐘
活動 (一) <u>一家吃團年飯</u> 	下午 <u>2時15分</u>	下午 <u>3時20分</u>	1 小時 05 分鐘




活動 (繪圖或貼上照片)	開始時間	結束時間	所需時間
活動 (二) <u>去迪士尼</u> ✓ 	下午 <u>4時50分</u> ✓	下午 <u>7時50分</u> ✓	<u>3</u> 小時 <u>10</u> 分鐘 ✓
活動 (三) <u>火煙花匯演</u> ✓ 	下午 <u>8時0分</u> ✓	下午 <u>8時5分</u> ✓	<u>0</u> 小時 <u>5</u> 分鐘 ✓
今天結束了！			

以上各項活動中，哪一項活動佔最多時間？共用去多少小時和分鐘？


在以上各項活動中，活動 (二) ✓ 花了最長的時間，

共用去 2 小時 10 分鐘。

要珍惜時間啊！





假日好去處(B)





姓名：梁鳴恩 (12) 班別：2C 成績：

- ◆ 請為自己安排農曆新年假期內 **一天的行程**，並完成下表。
- ◆ 日期：2019 年 2 月 1 日 (星期 五)
- ◆ 活動建議：拜年、做運動、做功課、逛街、遊覽、參觀……

活動 (繪圖或貼上照片)	開始時間	結束時間	所需時間
例子： <u>和家人一同吃早餐</u> 	上午 <u>7時30分</u>	上午 <u>8時10分</u>	0 小時 <u>40</u> 分鐘
活動 (一) <u>和家人到公園做早操</u> 	上午 <u>7時0分</u>	上午 <u>7時5分</u>	0 小時 <u>5</u> 分鐘



活動 (繪圖或貼上照片)	開始時間	結束時間	所需時間
活動 (二) 去迪士尼 <input checked="" type="checkbox"/> 	上午 9時30分 <input checked="" type="checkbox"/>	下午 5時30分 <input checked="" type="checkbox"/>	8 小時 0 分鐘 <input checked="" type="checkbox"/>
活動 (三) 去吃晚飯 <input checked="" type="checkbox"/> 	下午 6時0分 <input checked="" type="checkbox"/>	下午 6時35分 <input checked="" type="checkbox"/>	0 小時 35 分鐘 <input checked="" type="checkbox"/>
今天結束了！			


以上各項活動中，哪一項活動佔最多時間？共用去多少小時和分鐘？

為甚麼你會這樣安排？


在以上各項活動中，活動 (二) 花了最長的時間，

共用去 8 小時 0 分鐘。我安排這活動佔最長時間因為我想長時間在迪士尼玩，想試這裏的全部設施。

要珍惜時間啊！



假日好去處(B)







姓名：包曉嵐 (18) 班別：2C 成績：



◆ 請為自己安排農曆新年假期內 一天的行程，並完成下表。

◆ 日期：2019 年 2 月 3 日 (星期 日)

◆ 活動建議：拜年、做運動、做功課、逛街、遊覽、參觀……

活動 (繪圖或貼上照片)	開始時間	結束時間	所需時間
例子： <u>和家人一同吃早餐</u> 	上午 <u>7時30分</u>	上午 <u>8時10分</u>	<u>0</u> 小時 <u>40</u> 分鐘
活動 (一) <u>和家人到公園做早操</u> ✓ 	上午 <u>7時0分</u> ✓	上午 <u>7時5分</u> ✓	<u>0</u> 小時 <u>5</u> 分鐘 ✓



活動 (繪圖或貼上照片)	開始時間	結束時間	所需時間
活動 (二) <u>去海洋公園</u> ✓ 	上午 <u>8時0分</u> ✓	下午 <u>7時0分</u> ✓	<u>11</u> 小時 <u>0</u> 分鐘 ✓
活動 (三) <u>和家人一起吃團年飯</u> ✓ 	下午 <u>8時0分</u> ✓	下午 <u>10時0分</u> ✓	<u>2</u> 小時 <u>0</u> 分鐘 ✓
<h2>今天結束了!</h2>			


以上各項活動中，哪一項活動佔最多時間？共用去多少小時和分鐘？

為甚麼你會這樣安排？


在以上各項活動中，活動 (二) ✓ 花了最長的時間，

共用去 11 小時 0 分鐘。我安排這活動佔最長時間因為
有很多不同的海洋生物，可以觀摩。

要珍惜時間啊!



假日好去處(A)







姓名：林建良(9) 班別：2C 成績：

◆ 請為自己安排農曆新年假期內 **一天的行程**，並完成下表。

◆ 日期：2019 年 2 月 4 日(星期一)

◆ 活動建議：拜年、做運動、做功課、逛街、遊覽、參觀……

活動 (繪圖或貼上照片)	開始時間	結束時間	所需時間
例子： <u>和家人一同吃早餐</u> 	上午 <u>7時30分</u>	上午 <u>8時10分</u>	0 小時 40 分鐘
活動(一) <u>去公園玩耍</u> ✓ 	上午 <u>9時30分</u> ✓	上午 <u>10時30分</u> ✓	1 小時 0 分鐘 ✓




活動 (繪圖或貼上照片)	開始時間	結束時間	所需時間
活動 (二) <u>海洋公園</u> ✓ 	上午 <u>1</u> 時 <u>30</u> 分 ✓	下午 <u>6</u> 時 <u>0</u> 分 ✓	<u>7</u> 小時 <u>30</u> 分鐘 ✓
活動 (三) <u>吃晚餐</u> ✓ 	下午 <u>7</u> 時 <u>30</u> 分 ✓	下午 <u>8</u> 時 <u>30</u> 分 ✓	<u>1</u> 小時 <u>0</u> 分鐘 ✓
<h2>今天結束了!</h2>			

以上各項活動中，哪一項活動佔最多時間？共用去多少小時和分鐘？

在以上各項活動中，活動 (二) ✓ 花了最長的時間，

共用去 7 小時 30 分鐘。

要珍惜時間啊!



13 FEB 2019

假日好去處(B)


姓名：魏玄銘 (21) 班別：20 成績：Well done!

◆ 請為自己安排農曆新年假期內 一天 的行程，並完成下表。

◆ 日期：2019 年 2 月 7 日 (星期 四)

◆ 活動建議：拜年、做運動、做功課、逛街、遊覽、參觀……

活動 (繪圖或貼上照片)	開始時間	結束時間	所需時間
例子： <u>和家人一同吃早餐</u> 	上午 <u>7時30分</u>	上午 <u>8時10分</u>	<u>0</u> 小時 <u>40</u> 分鐘
活動 (一) <u>和家人一起吃早餐</u> 	上午 <u>10時15分</u>	上午 <u>11時15分</u>	<u>1</u> 小時 <u>0</u> 分鐘



活動 (繪圖或貼上照片)	開始時間	結束時間	所需時間
活動 (二) <u>和家人一起去嘉年華玩</u> 	<u>下午</u> <u>1時0分</u>	<u>下午</u> <u>5時30分</u>	<u>4</u> 小時 <u>30</u> 分鐘
 <u>和家人一起吃晚飯</u>	<u>下午</u> <u>6時30分</u>	<u>下午</u> <u>7時20分</u>	<u>0</u> 小時 <u>50</u> 分鐘
吉東了！			

以上各項活動中，哪一項活動佔最多時間？共用去多少小時和分鐘？

為甚麼你會這樣安排？

在以上各項活動中，活動 (二) 花了最長的時間，

共用去 4 小時 30 分鐘。我安排這活動佔最長時間因為 這裏有很多不同的遊樂設施，令我十分興奮，玩完又玩。

要珍惜時間啊！



假日好去處(A)

12-2-19

星期一

Well done! Well done! Well done! Well done!


姓名：葉芯瑤 (6) 班別：2D 成績：

◆ 請為自己安排農曆新年假期內 一天 的行程，並完成下表。

◆ 日期：2019 年 2 月 7 日 (星期 四)

◆ 活動建議：拜年、做運動、做功課、逛街、遊覽、參觀……

活動 (繪圖或貼上照片)	開始時間	結束時間	所需時間
例子： <u>和家人一同吃早餐</u> 	上午 <u>7時30分</u>	上午 <u>8時10分</u>	0 小時 40 分鐘
活動 (一) <u>和家人一同摘草莓</u> ✓ 	上午 <u>9時30分</u>	上午 <u>10時30分</u>	1 小時 0 分鐘 ✓



活動 (繪圖或貼上照片)	開始時間	結束時間	所需時間
活動 (二) <u>我和家人吃午餐</u> 	下午 12時30分	下午 1時30分	1小時 0分鐘
活動 (三) <u>我和家人吃晚餐</u> 	下午 7時20分	下午 9時0分	1小時 40分鐘


今天結束了！

以上各項活動中，哪一項活動佔最多時間？共用去多少小時和分鐘？

在以上各項活動中，活動(三)花了最長的時間，

共用去1小時40分鐘。

要珍惜時間啊！



假日好去處(A)



Well done! Well done! Well done! Well done! Well done! Well done! Well done! Well done!


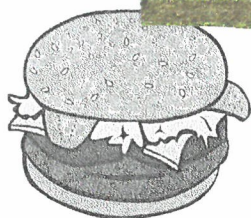
姓名：葉寶琪 (5) 班別：2D 成績：12-19



◆ 請為自己安排農曆新年假期內一天的行程，並完成下表。

◆ 日期：2019 年 2 月 6 日 (星期 三)

◆ 活動建議：拜年、做運動、做功課、逛街、遊覽、參觀……

活動 (繪圖或貼上照片)	開始時間	結束時間	所需時間
例子： <u>和家人一同吃早餐</u> 	上午 <u>7時30分</u>	上午 <u>8時10分</u>	0小時 <u>40分鐘</u>
活動(一) <u>和表妹玩沙</u> 新年 	上午 <u>9時0分</u> 快樂	上午 <u>9時45分</u>	0小時 <u>45分鐘</u>



活動 (繪圖或貼上照片)	開始時間	結束時間	所需時間
活動 (二) <u>和媽媽打羽毛球</u>  新年 快樂	下午 <u>2時5分</u>	下午 <u>3時15分</u>	<u>1</u> 小時 <u>10</u> 分鐘
活動 (三) <u>我、爸和表妹騎電單車</u>  新年 快樂	下午 <u>4時10分</u>	下午 <u>5時10分</u>	<u>1</u> 小時 <u>0</u> 分鐘


今天結束了！

以上各項活動中，哪一項活動佔最多時間？共用去多少小時和分鐘？

在以上各項活動中，活動 (二) 花了最長的時間，

共用去 1 小時 10 分鐘。

要珍惜時間啊！



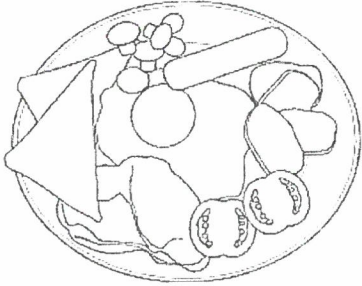

假日好去處(A)


Well done! Well done!



Well done! Well done!

姓名：林珈瑋(9) 班別：2D 成績：Well done!

- ◆ 請為自己安排農曆新年假期內一天的行程，並完成下表。
- ◆ 日期：2019年 2月 3日(星期日)
- ◆ 活動建議：拜年、做運動、做功課、逛街、遊覽、參觀……

活動 (繪圖或貼上照片)	開始時間	結束時間	所需時間
例子： <u>和家人一同吃早餐</u> 	上午 <u>7時30分</u>	上午 <u>8時10分</u>	0小時 <u>40分鐘</u>
活動(一) <u>和妹妹去主日學</u> 	上午 <u>11時30分</u>	下午 <u>1時0分</u>	1小時 <u>30分鐘</u>




活動 (繪圖或貼上照片)	開始時間	結束時間	所需時間
活動 (二) <u>和家人去圖書館</u> 	下午 <u>3時45分</u>	下午 <u>5時0分</u>	<u>1</u> 小時 <u>15</u> 分鐘
活動 (三) <u>和家人去公園玩耍</u> 	下午 <u>5時15分</u>	下午 <u>6時0分</u>	<u>0</u> 小時 <u>45</u> 分鐘
今天結束了！			

以上各項活動中，哪一項活動佔最多時間？共用去多少小時和分鐘？

在以上各項活動中，活動(一)花了最長的時間，

共用去1小時30分鐘。

要珍惜時間啊！






假日好去處(B)





姓名：鍾峻仁 (7) 班別：2E 成績：Very well done Excellent

- ◆ 請為自己安排農曆新年假期內一天的行程，並完成下表。
- ◆ 日期：2019年2月8日(星期五)
- ◆ 活動建議：拜年、做運動、做功課、逛街、遊覽、參觀……

活動 (繪圖或貼上照片)	開始時間	結束時間	所需時間
例子： <u>和家人一同吃早餐</u> 	上午 <u>7時30分</u>	上午 <u>8時10分</u>	<u>0</u> 小時 <u>40</u> 分鐘
活動(一) <u>和爸媽一起去美心吃早餐</u> 	上午 <u>10時30分</u>	上午 <u>11時31分</u>	<u>1</u> 小時 <u>1</u> 分鐘



活動 (繪圖或貼上照片)	開始時間	結束時間	所需時間
活動 (二) <u>去小樹苗的英文班</u> 	下午 <u>4時30分</u>	下午 <u>5時30分</u>	<u>1</u> 小時 <u>0</u> 分鐘
活動 (三) <u>到旺角送飯給媽媽</u> 	下午 <u>6時30分</u>	下午 <u>7時40分</u>	<u>1</u> 小時 <u>10</u> 分鐘
今天結束了！			

以上各項活動中，哪一項活動佔最多時間？共用去多少小時和分鐘？

為甚麼你會這樣安排？


在以上各項活動中，活動 (三) 花了最長的時間，

共用去 1 小時 10 分鐘。我安排這活動佔最長時間因為

我愛媽媽，天天都送飯給她。



要珍惜時間啊！







假日好去處(B)





姓名：李忻雨 (19) 班別：2E 成績：Vary well done Excellent

- ◆ 請為自己安排農曆新年假期內 一天 的行程，並完成下表。
- ◆ 日期：2019 年 2 月 4 日 (星期一) ✓
- ◆ 活動建議：拜年、做運動、做功課、逛街、遊覽、參觀……

活動 (繪圖或貼上照片)	開始時間	結束時間	所需時間
例子： <u>和家人一同吃早餐</u> 	<u>上午</u> <u>7時30分</u>	<u>上午</u> <u>8時10分</u>	<u>0</u> 小時 <u>40</u> 分鐘
活動 (一) <u>青島海邊餵海鷗</u> ✓ 	<u>下午</u> <u>1時40分</u> ✓	<u>下午</u> <u>3時20分</u> ✓	<u>1</u> 小時 <u>40</u> 分鐘 ✓



活動 (繪圖或貼上照片)	開始時間	結束時間	所需時間
活動 (二) <u>參觀青島天主教堂</u> 	下午 <u>4時00分</u>	下午 <u>4時30分</u>	<u>0</u> 小時 <u>30</u> 分鐘
活動 (三) <u>參觀青島奧林匹克帆船中心</u> 	下午 <u>5時00分</u>	下午 <u>6時00分</u>	<u>1</u> 小時 <u>0</u> 分鐘
<h2>今天結束了!</h2>			

以上各項活動中，哪一項活動佔最多時間？共用去多少小時和分鐘？

為甚麼你會這樣安排？

在以上各項活動中，活動 (一) 花了最長的時間，

共用去 1 小時 40 分鐘。我安排這活動佔最長時間因為
我太喜歡海區島了。



要珍惜時間啊!

