


在百貨公司裏，欣恩首先向東方走，到達服裝部；然後向西南方走，到達體育用品部；接着向東南方走，到達文具部；跟着向南方走，到達電器部；最後向西方走，到達收銀處付款。


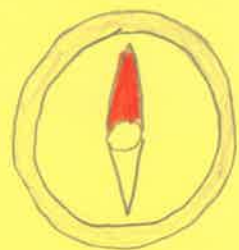
# 方向



1. 遊樂場在 公園的南方,同時在足球場的東方。
2. 商場在 遊樂場的西方。
3. 爸爸開車從公園向西走,左轉了一個直角,再往前開,右轉了一個直角,那麼他的左邊是商場。

# 方向

請替 Mario 收集金幣，放入小豬存錢筒




方向

卓瑤到了主題樂園遊玩，並到了售票處拿了  
一張地圖。

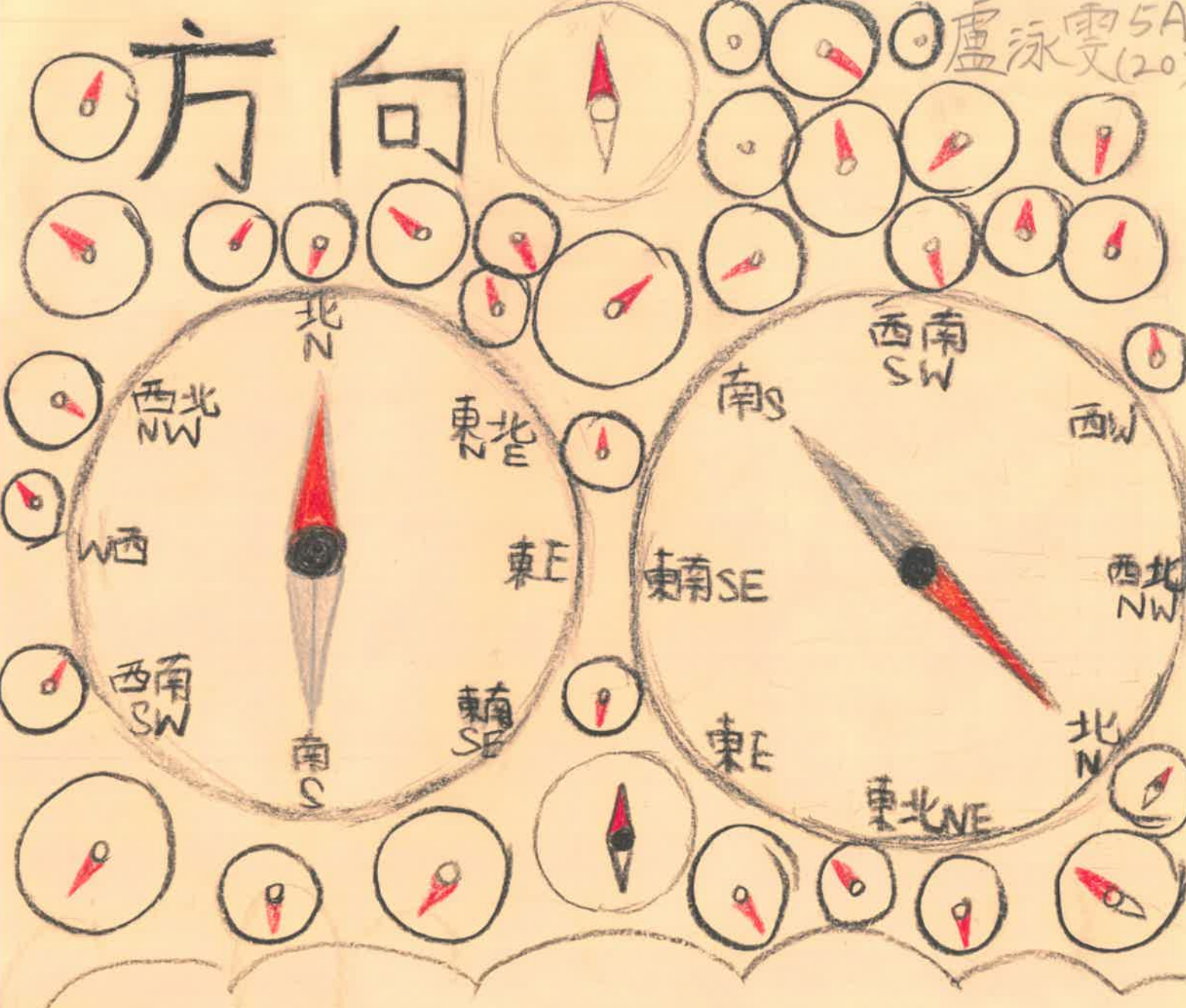


# 主題樂園



- ① 過山車在洗手間的東北方。
- ② 小吃部在洗手間和過山車的西南方。
- ③ 城堡在洗手間的東南方。
- ④ 專門店在城堡和洗手間的西北方。
- ⑤ 馬戲團在專門店的南方。
- ⑥ 噴水池在洗手間的南方。
- ⑦ 入口在城堡北方。
- ⑧ 醫療站在過山車的西方。

# 方向



6	5	4	3	2 向南走1步	1 start
7 向西北走1步	8	9	10	11 向東北走1步	12
18	17 向東南走1步	16	15	14	13
19	20	21	22	23 向南走1步	24 Finish

# 方向

你好，請跟據以下的題目開始作答。如不明可以看看 P.13，然後作答。

努力作答！

加油！

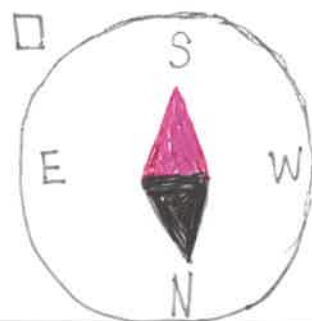

指南針是順時針的，指南針的紅針是必需向北，如紅針指去其他方向，就是錯誤的。這個時候，就要把指南針轉到紅針是指着北方的。

北方	N (North)
東北方	NE (North-East)
東方	E (East)
東南方	SE (South-East)
南方	S (South)
西南方	SW (South-West)
西方	W (West)
西北方	NW (North-West)

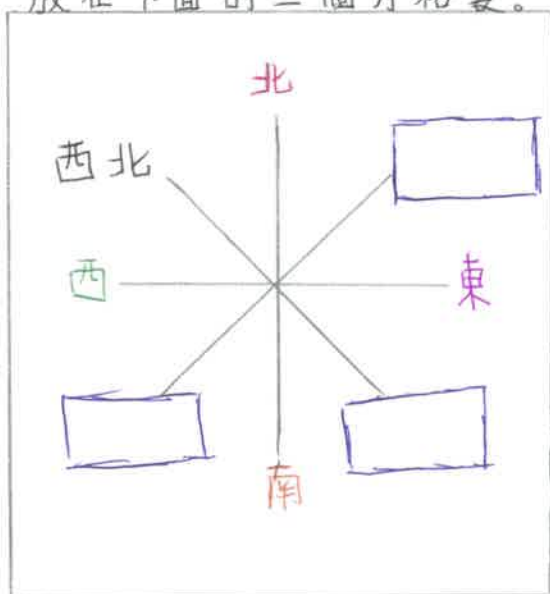


指南針  
中文 英文


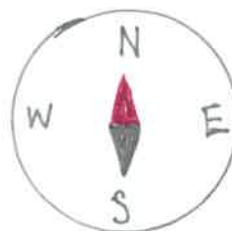
把指南針方向正確答案的方格裏打“√”。



把東北、東南、西南分別放在下面的三個方格裏。



1. 北方和東方的中間是 \_\_\_\_\_ 方。
2. 東北方向右轉三角，即是 \_\_\_\_\_ 方。
3. 下面的指南針方向是 (正確/不正確)

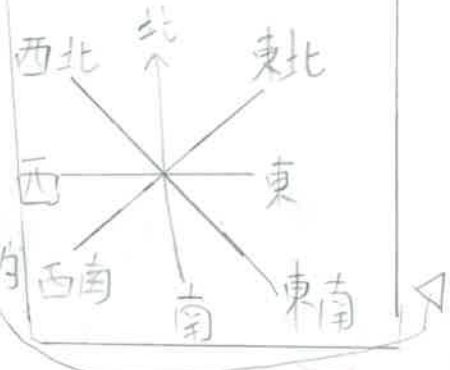




大家好,我是貓爪  
今天我們來重溫方  
向。



這是八個方向  
背這個棘  
是辨法的



方向可用時鐘計



不過你可能會遇到這北, but 只要把這  
一阿對了記得寫下次囉



記好就可以了 (而北他會提供的)  
北的下面是南。  
北的右面是東。  
北的左面是西。



你知道北在哪裏嗎? 是那北嗎? 錯了, 其實是紅色針指向的地方, 紅色指的永遠是北。



好了, 今天就說這裏, 下次見, 再見。

下午茶!!



アフタヌーンティー!!!

去休息了  
- さようなら~ 私と一緒にいきます残り~  
再見~!

5B 辛俊熙 (21)



八個方向:



古城.

瞭望台.



吊橋.

碼頭.


燈塔.

①例: 吊橋的西北方是 \_\_\_\_\_?

→ 可改成: \_\_\_\_\_ 在吊橋的東南方?



練習:



②如上題,

碼頭在 \_\_\_\_\_ 的北方?







簡稱	英
北方	N North
東北方	NE North-East
東方	E East
東南方	SE South-East
南方	S South
西南方	SW South-west
西方	W West
西北方	NW North-west

24-10-2020



要向東北方才能到樹。

例如

你當那點是人那圓的人是向右上角你去回東南西北那邊  
那你指着個點指去右角你  
就會見到東北方

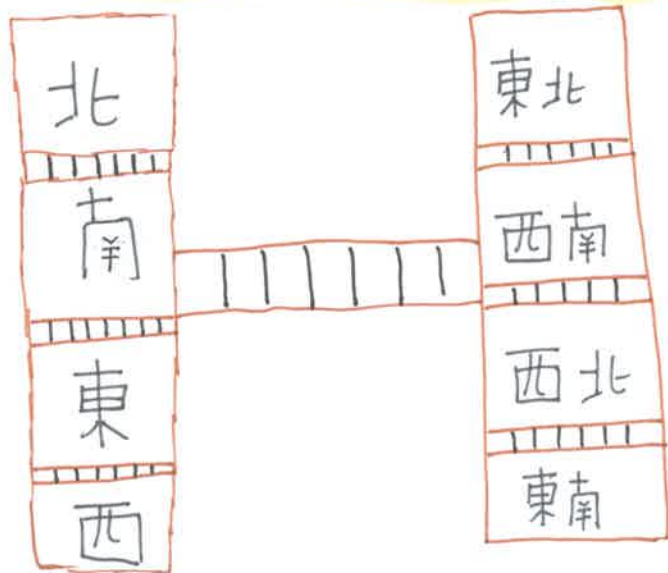
我們可以用手機指南針



手錶

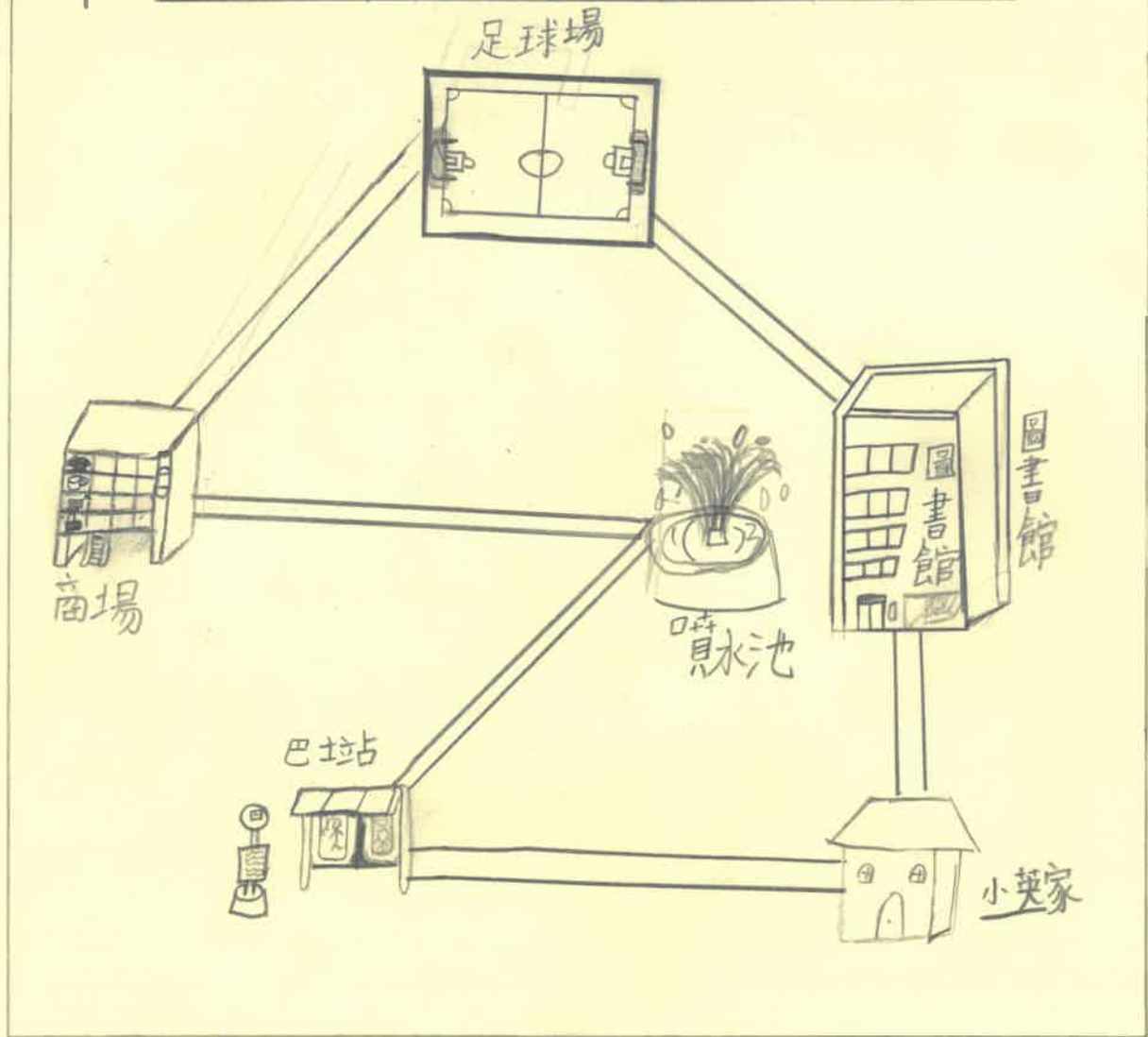


## 今次我們學的方向



第

# 小英家附近的設施圖



- ① 足球場在商場的東北方。
- ② 小英從巴士站向東方走到小英家。
- ③ 小傑從商場出發前往圖書館。  
他向東北方走到足球場後，轉向東南方走便可到達圖書館。

5D

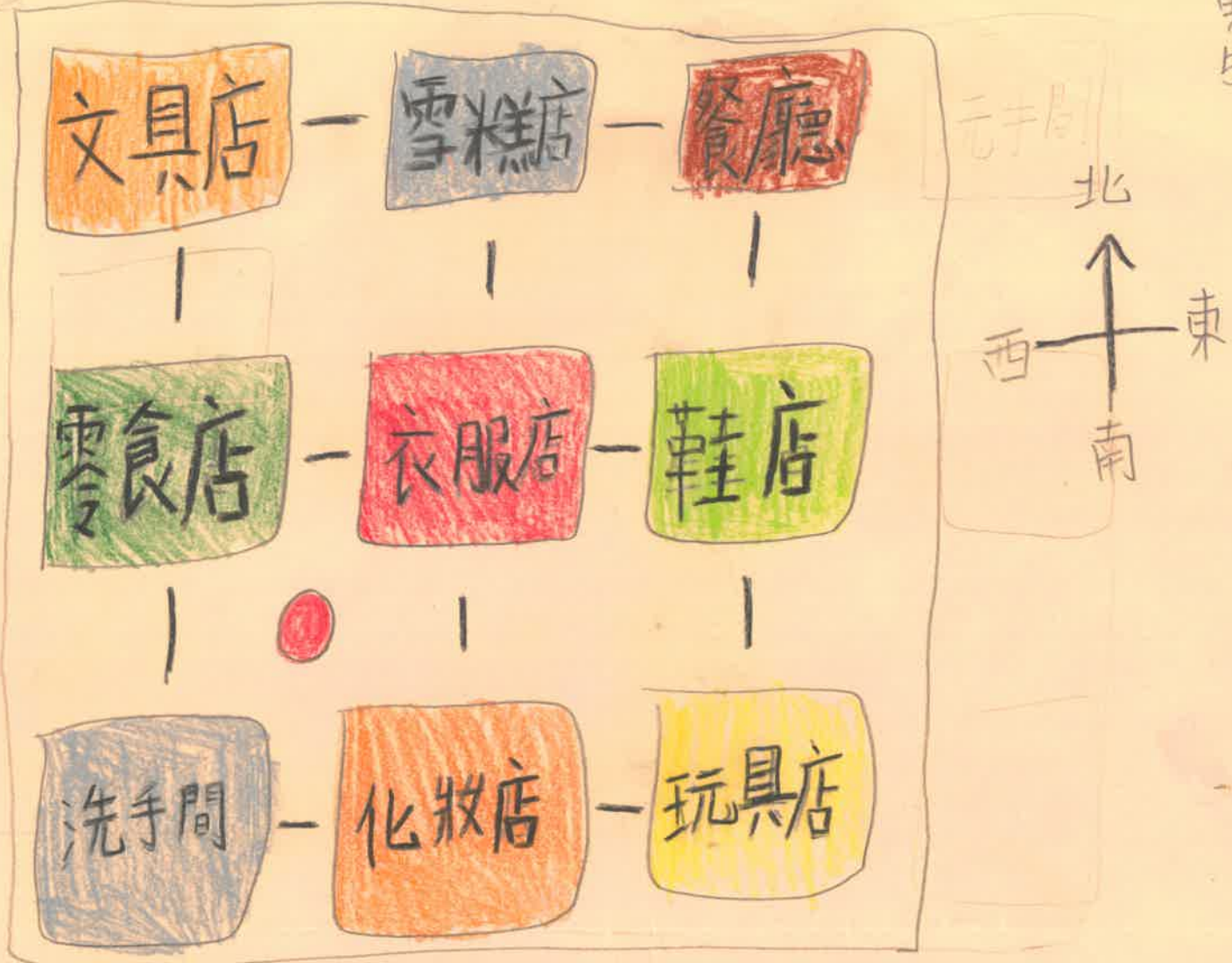
名: 李銘瑜



Good work




VERY 富創作為  
CREATIVE



1. 雪糕店在化妝店的北方。
2. 洗手間在玩具店的西方,同時在餐廳的西南方。
3. 文具店的東南方是衣服店和玩具店。
4. 巴士站在零食店的東南方,也在化妝店的西北方在圖上「●」表示巴士站的位置。





小明參加了一個迷宮遊戲，快幫他找到銀鑰匙並打大門吧！

從入口向...方走，再向...方走，再向...方走，再向...方走，再向...方走，走到小鳥群前，再向...走到垃圾桶的...方，再向...方走，拿到金鑰匙，再原路返回到小鳥群前，打開銀門，拿到銀鑰匙，再向...方走，打開大門，走出迷宮。

