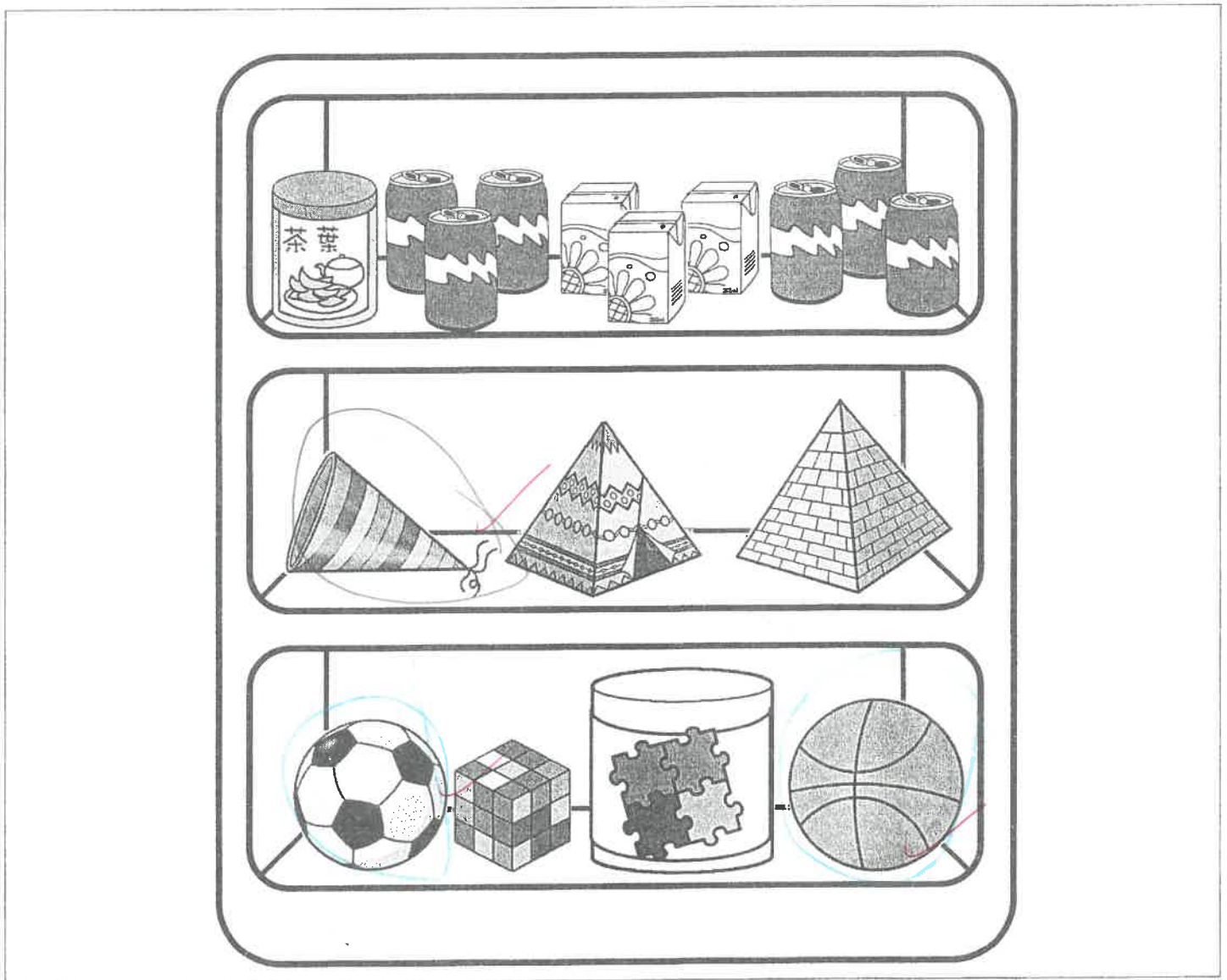


循理會白普理基金循理小學

姓名: <u>倫沛呈</u> (<u>20</u>)	一年級下學期	成 績
班別: 1 <u>B</u>	數學科專題:	
日期: <u>18-12-2020</u>	整理雜物架	



媽媽把不同的物件放置在雜物架上。



1(a). 數數看，雜物架的底層有 4 件物品。



1(b). 雜物架的頂層有 9 件飲品。

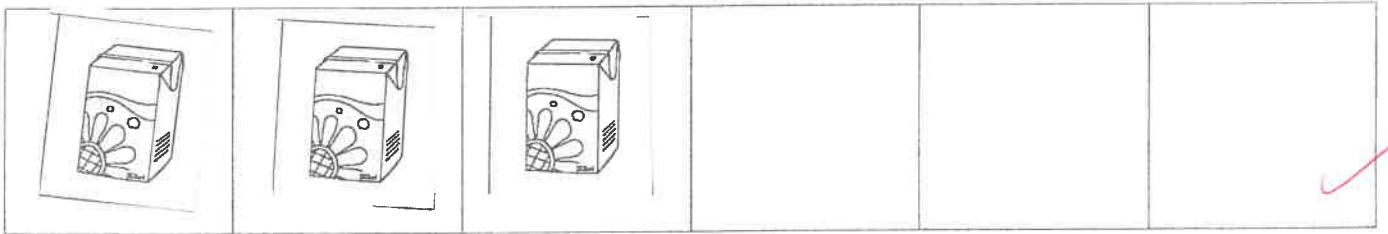

姓名：_____ ()

班別：1 _____

2. 在雜物架中，哪一件物品像圓錐？把它用黑色筆圈出來。

3. 在雜物架中，哪兩件物品像球？把它用藍色筆圈出來。

4. 以一對一的方法，利用附頁的圖案  和 ，
剪貼在下面比比看。



$$\boxed{6} - \boxed{3} = \boxed{3} \quad \checkmark$$

 比  * (多 / ~~少~~) $\boxed{3}$ \checkmark

5. 從報章中找出一些像角柱、圓錐、和球的物件圖片，貼在下面。

(每種只需找出一件物品)

角柱




圓錐



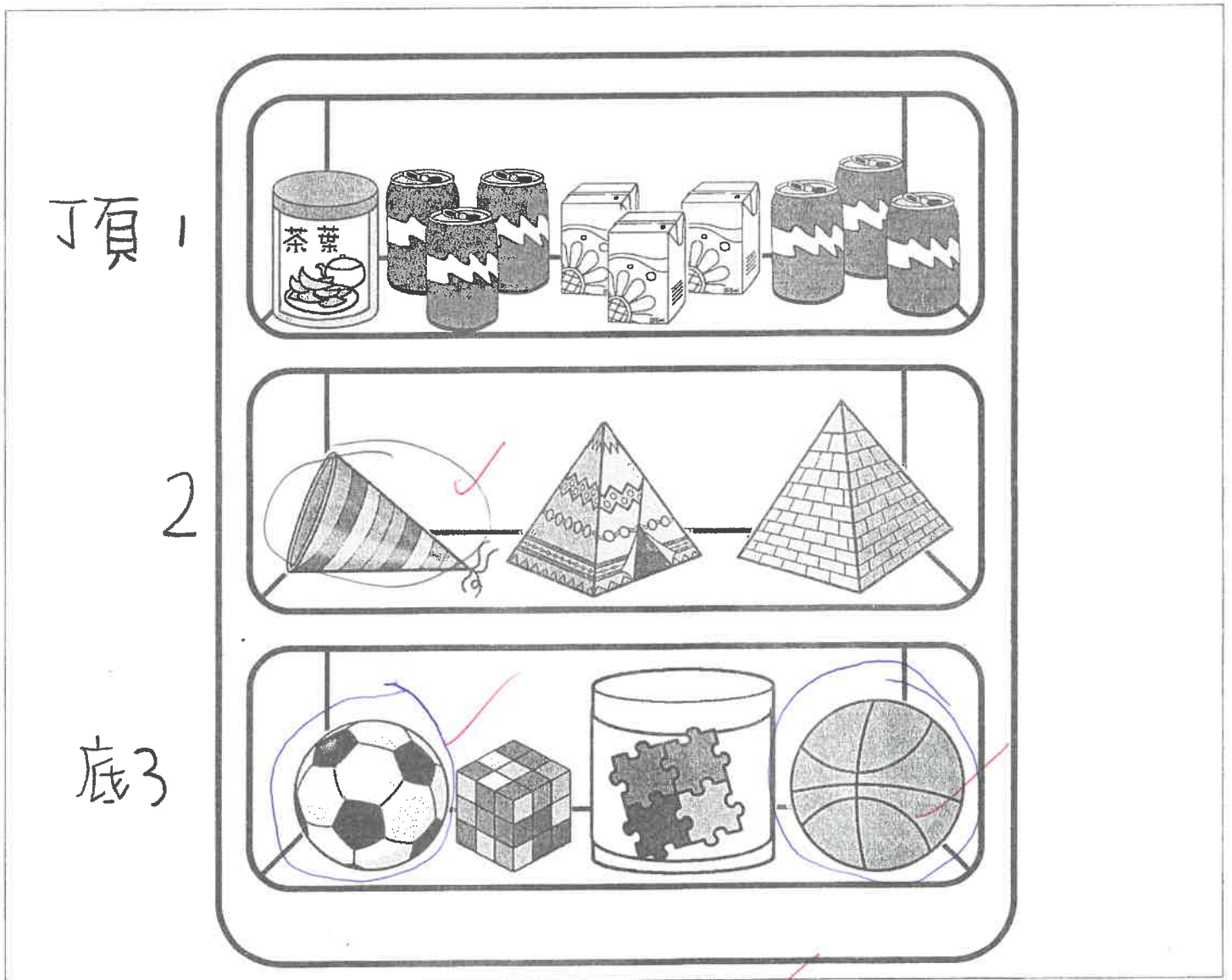
球



循理會白普理基金循理小學

姓名: <u>林浩然</u> (14)	一年級下學期	成績	
班別: 1 <u>B</u>	數學科專題:		
日期: <u>30-12-2020</u>	整理雜物架		

媽媽把不同的物件放置在雜物架上。





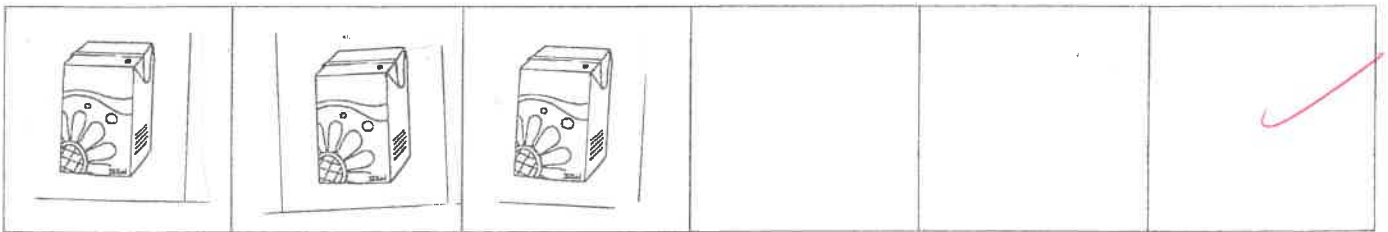

1(a). 數數看，雜物架的底層有 4 件物品。

1(b). 雜物架的頂層有 9 件飲品。

姓名：林浩然(14)

班別：1 B



2. 在雜物架中，哪一件物品像圓錐？把它用黑色筆圈出來。
3. 在雜物架中，哪兩件物品像球？把它用藍色筆圈出來。
4. 以一對一的方法，利用附頁的圖案  和 ，剪貼在下面比比看。



$$\boxed{6} - \boxed{3} = \boxed{3}$$

 比  * (多 / 少) $\boxed{3}$ 。

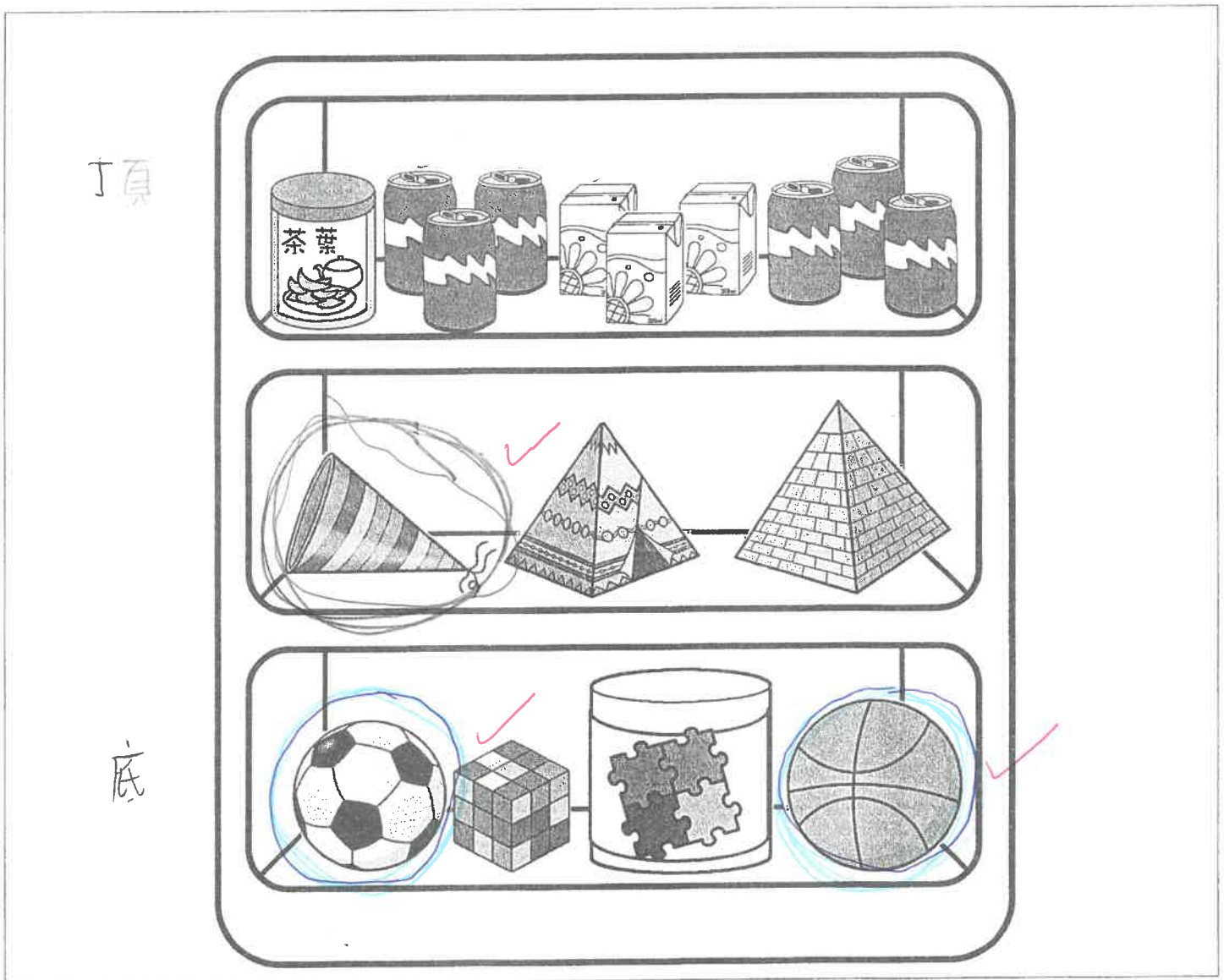
5. 從報章中找出一些像角柱、圓錐、和球的物件圖片，貼在下面。
(每種只需找出一件物品)



循理會白普理基金循理小學

姓名: <u>周素蓮</u> (4)	一年級下學期	成績
班別: 1 <u>B</u>	數學科專題:	
日期: <u>18-12-2020</u>	整理雜物架	

媽媽把不同的物件放置在雜物架上。



1(a). 數數看，雜物架的底層有 4 件物品。



1(b). 雜物架的頂層有 9 件飲品。

姓名：_____ ()

班別：1 _____







2. 在雜物架中，哪一件物品像圓錐？把它用黑色筆圈出來。✓

3. 在雜物架中，哪²兩件物品像[○]球？把它用藍色筆圈出來。✓


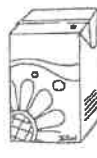

4. 以一對一的方法，利用附頁的圖案  和  ，

剪貼在下面比比看。



6

3

					
--	--	--	--	--	--

$$\boxed{6} - \boxed{3} = \boxed{3}$$

 比  * (多 / 少) $\boxed{3}$ 。


5. 從報章中找出一些像角柱、圓錐、和球的物件圖片，貼在下面。

(每種只需找出一件物品)

角柱



圓錐



球

