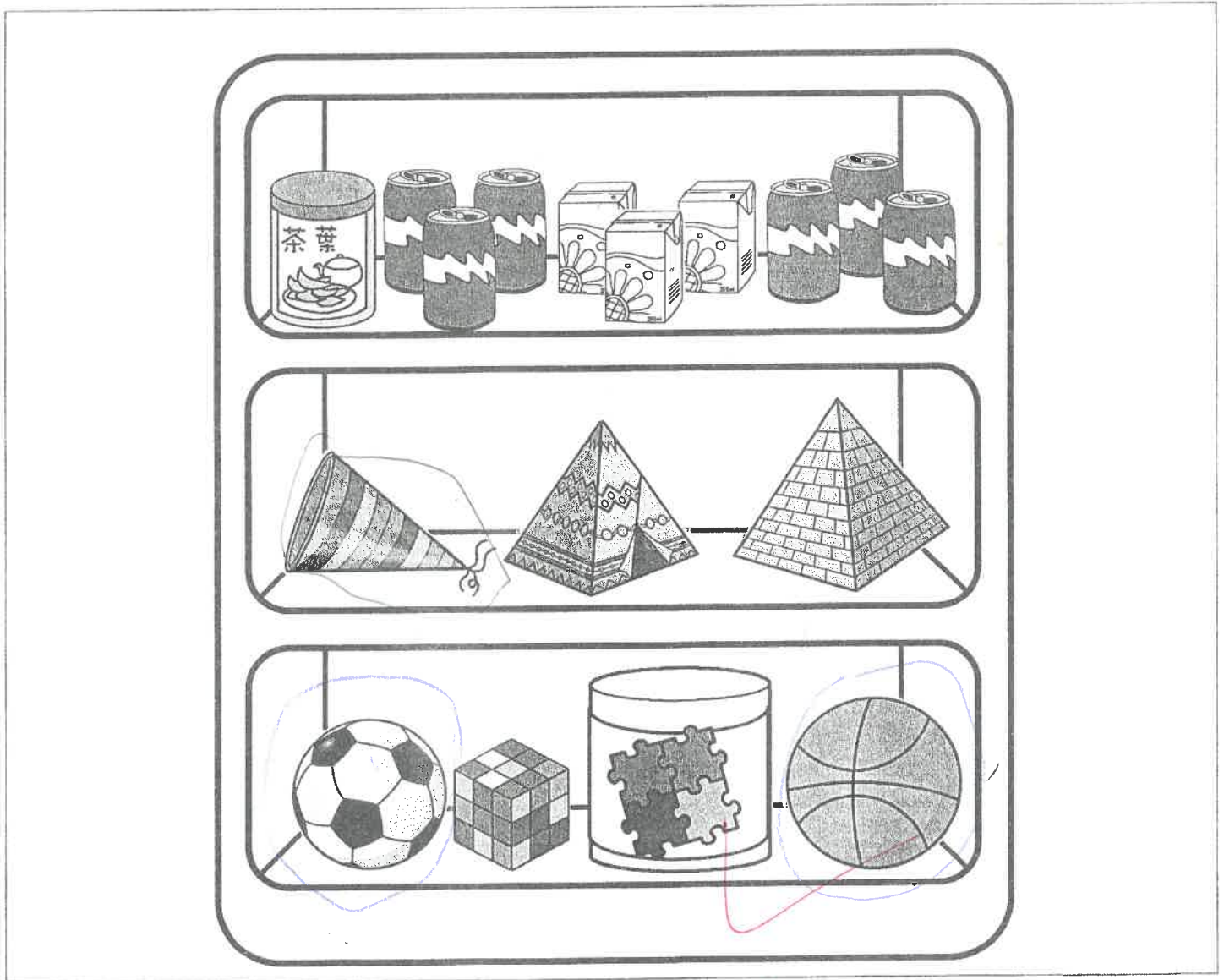


循理會白普理基金循理小學

姓名: <u>李卓</u> (5)	一年級下學期	成績 <u>A</u>
班別: 1 <u>A</u>	數學科專題:	
日期: <u>18-12-2020</u>	整理雜物架	

5/1

媽媽把不同的物件放置在雜物架上。



1(a). 數數看，雜物架的底層有 4 件物品。

1(b). 雜物架的頂層有 9 件飲品。

(B1)







姓名: 卓子朗 (5)

班別: 1 A

2. 在雜物架中，哪一件物品像圓錐？把它用黑色筆圈出來。

3. 在雜物架中，哪兩件物品像球？把它用藍色筆圈出來。

4. 以一對一的方法，利用附頁的圖案  和 ，剪貼在下面比比看。




$$\boxed{6} - \boxed{3} = \boxed{3}$$

 比  *(多/少) $\boxed{3}$ 。

5. 從報章中找出一些像角柱、圓錐、和球的物件圖片，貼在下面。

(每種只需找出一件物品)

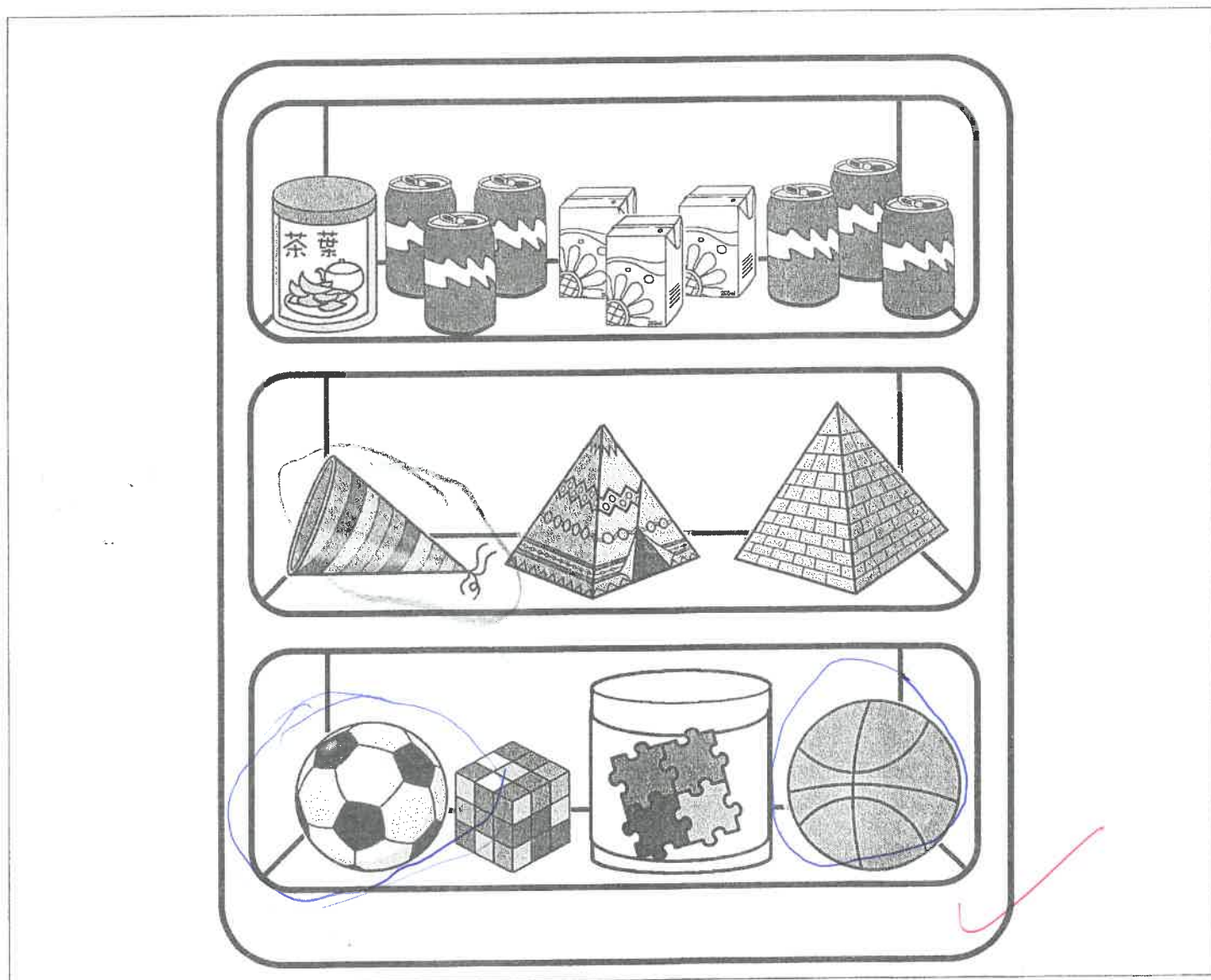


循理會白普理基金循理小學

姓名: <u>廣牧風 (9)</u>	一年級下學期	成績	A
班別: 1 <u>A</u>	數學科專題:		
日期: <u>4-1-2021</u>	整理雜物架		

5/1

媽媽把不同的物件放置在雜物架上。



1(a). 數數看，雜物架的底層有 4 件物品。



1(b). 雜物架的頂層有 9 件飲品。



姓名: 鄺牧風 (9)



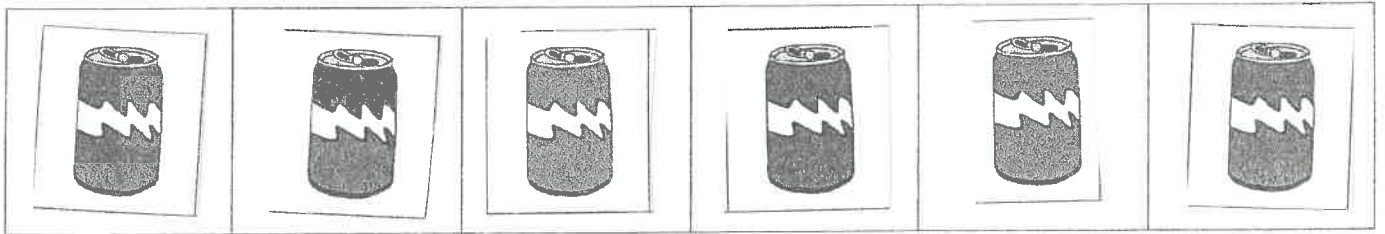
班別: 1 A

2. 在雜物架中，哪一件物品像圓錐？把它用黑色筆圈出來。



3. 在雜物架中，哪兩件物品像球？把它用藍色筆圈出來。

4. 以一對一的方法，利用附頁的圖案  和  ，

剪貼在下面比比看。



$$\boxed{6} - \boxed{3} = \boxed{3}$$

 比  *(多 / 少) $\boxed{3}$ 。

5. 從報章中找出一些像角柱、圓錐、和球的物件圖片，貼在下面。

(每種只需找出一件物品)

